



Le musée archéologique de Tétouan comporte un jardin et trois salles principales, deux au rez-de-chaussée, de part et d'autre de la cage d'escalier, et une troisième à l'étage :

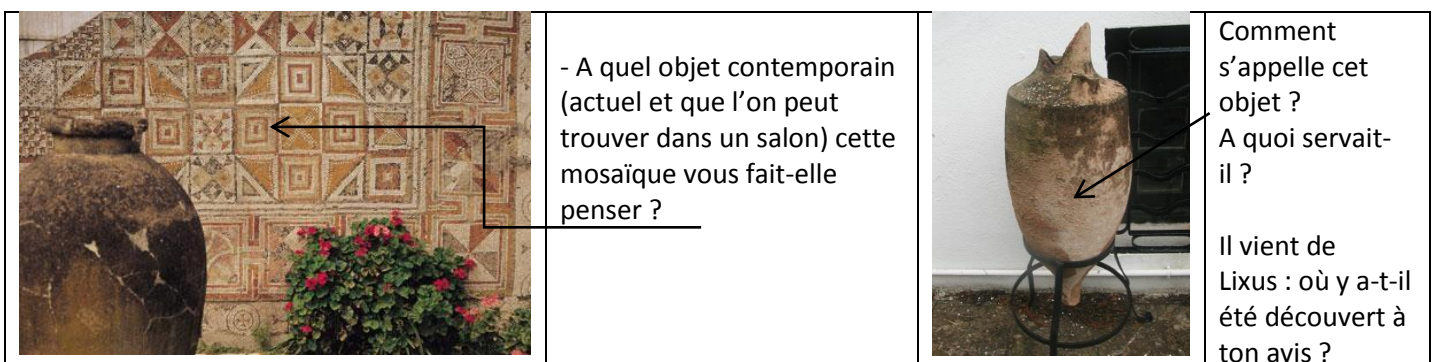
- ⇒ Le jardin présente des stèles, des mosaïques et des amphores.
- ⇒ La première salle à droite de l'escalier offre un panorama de l'histoire du Maroc, de la période préhistorique jusqu'à la période islamique médiévale.
- ⇒ La deuxième salle à gauche de l'escalier expose les principales mosaïques découvertes à Lixus.
- ⇒ La troisième salle au premier étage est consacrée aux découvertes effectuées sur le site archéologique romain de Tamuda, situé à cinq/dix kilomètres environ de Tétouan.

I. Le jardin

A quelles époques appartiennent les quatre stèles suivantes ? Qu'est-ce qui t'a mis sur la voie ?



Que représentent les détails suivants ? Quel est le sujet représenté sur le reste des mosaïques ?



II. Première salle : panorama historique du Maroc

1. Première vitrine (derrière vous à droite en entrant) :
 - a) A quoi ressemble un biface ?
 - b) Qui est-ce qui utilisait ces objets ?
2. Deuxième et troisième vitrines (sur le côté droit de la salle) :
 - a) Qu'est-ce qui marque l'entrée du Maroc dans l'histoire antique ?
 - b) Qu'est-ce que la civilisation punique ? la civilisation maurétanienne ?
3. Quatrième vitrine (au fond de la salle) :
 - a) Que représente la maquette ?
 - b) Ce monument passait dans l'antiquité pour le tombeau d'un géant : de quel géant s'agit-il ?
4. Cinquième vitrine (au fond de la salle à gauche) :
 - a) Quels produits commerciaux étaient échangés avec le reste de l'empire à l'époque romaine ?
 - b) Qu'arrive-t-il au Maroc romain en 285 ap. J.-C. ?
5. Sixième vitrine (à gauche en entrant dans la salle) :
 - a) Quel type d'objets a été trouvé à Lixus à l'époque islamique ?




A quels types d'objets appartiennent les détails suivants ?

A quelles civilisations historiques du Maroc appartiennent les objets suivants ?

Qui est représenté par ces objets ?




		

Remets dans l'ordre sur la frise ci-dessous les périodes historiques suivantes : *époque romaine, préhistoire, époque phénico-punique (phénicienne et carthaginoise), époque islamique, époque maurétanienne*

	VIIIe siècle av. JC / IVe s. av. JC	-IIIe / Ier s. av. JC	42 ap. J.-C.	VIIIe s.
--	-------------------------------------	-----------------------	--------------	----------

III. Deuxième salle : les mosaïques de Lixus

- => Dans quel bâtiment ces mosaïques ont-elles été découvertes ?
- => Dans quelles pièces pouvait-on trouver des mosaïques ?
- => A partir de quels matériaux les petits cubes (tesselles) étaient-ils fabriqués ?
- => De quand datent-elles ?

Quels motifs retrouve-t-on sur plusieurs mosaïques ?	Comment les volumes sont-ils représentés sur la mosaïque de <i>Vénus et Adonis</i> ?	Comment pourrais-tu qualifier la façon dont le visage de <i>Rhea Silvia</i> est représenté ?
		

IV. Troisième salle : le site de Tamuda

- => Où se trouve le site de Tamuda ?
- => D'où vient le nom de « Tamuda » ?
- => Quelles sont les principales périodes historiques pendant lesquelles ce site a été occupé ?
- => A combien de reprises la ville a-t-elle été dévastée ?
- => A quelles périodes a-t-il été fouillé (il y en a deux) ?

A quoi servaient les objets suivants ?		
		

Que nous apprennent ces objets ?	Dans quelle matière cet objet est-il façonné ?
 	